



# Textbeispiele Massenmaße

1a

# Beispiel 1

---

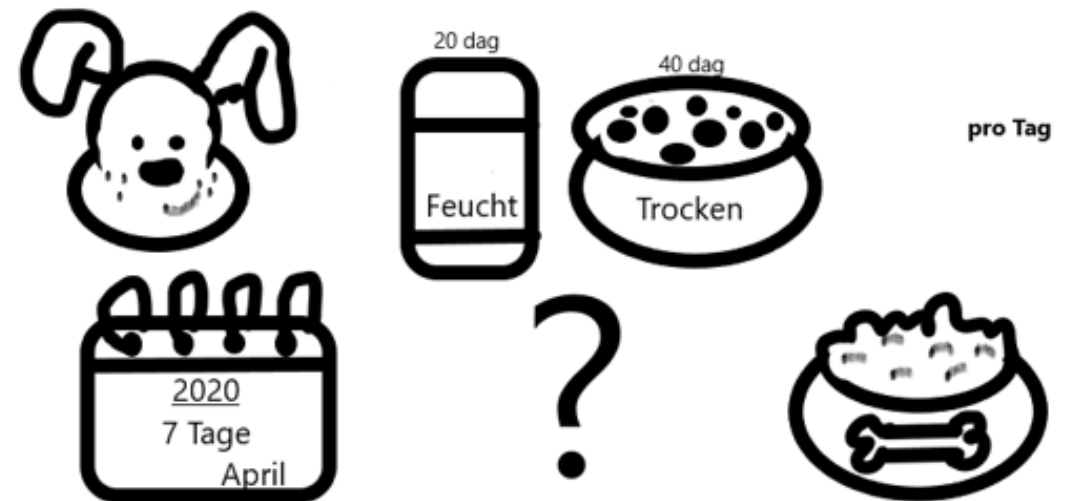
In einer Einkaufstasche sind: 2kg Orangen; 3 Päckchen Nudeln zu je 255g und 2 Dosen Pilze zu je 630g. Wie schwer ist der Inhalt der Einkaufstasche?



# Beispiel 2

Frage: Ein großer Hund benötigt am Tag 40 dag Trockenfutter und 20 dag Feuchtfutter.

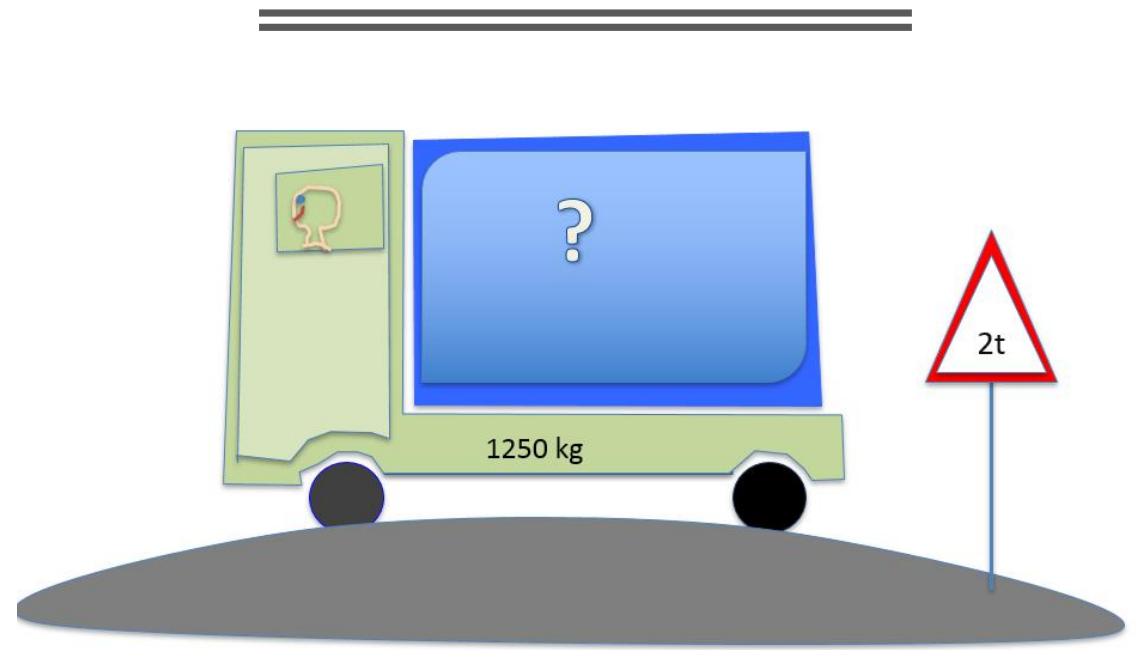
Frage: Wie viel kg und dag Futter müssen wir für eine Woche Urlaub einpacken?



# Beispiel 3

---

Der LKW fährt über eine Brücke die nur für 2 t zulässig ist.  
Wie schwer darf die Ladung sein?  
! Der Fahrer wiegt 7500 dag !



# Beispiel 4

---

Alex isst gerne Äpfel. Er isst im Monat 500 dag Äpfel.

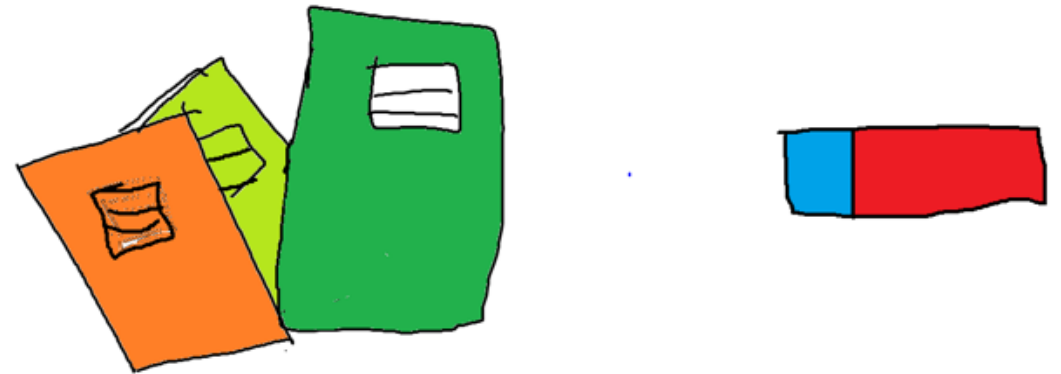
Wieviel kg ist er in einem Jahr?



# Beispiel 5

---

Lena muss für die Schule drei Hefte für 90g und einen Radirgumme um 25g . Wie schwer ist alles gemeinsam?



# Beispiel 6

---

Markus möchte sein Haus renovieren.  
Er schleppt 7 Säcke Zement zu je 40 kg in den Garten.  
Wie viel kg schleppt Markus insgesamt?




# Beispiel 7

---

Hannah isst gerne Erdbeeren. Sie isst in der Woche 500g.


F: Wie viele Erdbeeren isst sie in 12 Wochen?





# Beispiel 8


Sophie geht in ein Geschäft und kauft 250 g Wurst, 183g Käse, 486g Speck und 509 g Würstel.



# Beispiel 9

---

Franz hilft seinen Opa Holz in seine Hütte tragen. Er hat jetzt schon 55 Holzbrette zu je 2345 g hineingetragen. Er muss noch 22 hineintragen.  
Wie viele kg hat er insgesamt dann hineingetragen?




# Beispiel 10

---

Die Brücke darf höchstens mit 2t 500kg befahren werden.

Der Lastwagen wiegt 1t 050kg, der Fahrer wiegt 80kg.

Darf er die Brücke überfahren?




# Beispiel 11

---

Angabe:

Susi braucht für ihren Kuchen 1 kg Mehl, 20 dag Butter, 500g Zucker und 250g Germ.


Wie viele dag Zutaten braucht sie insgesamt?



# Beispiel 12

Auf dem Fahrradexpress von Podersdorf nach Rust dürfen Fahrräder mit einem Gesamtgewicht von max. 5t transportiert werden.

Wie viele Räder dürfen transportiert werden, wenn ein Rad 13 kg wiegt?

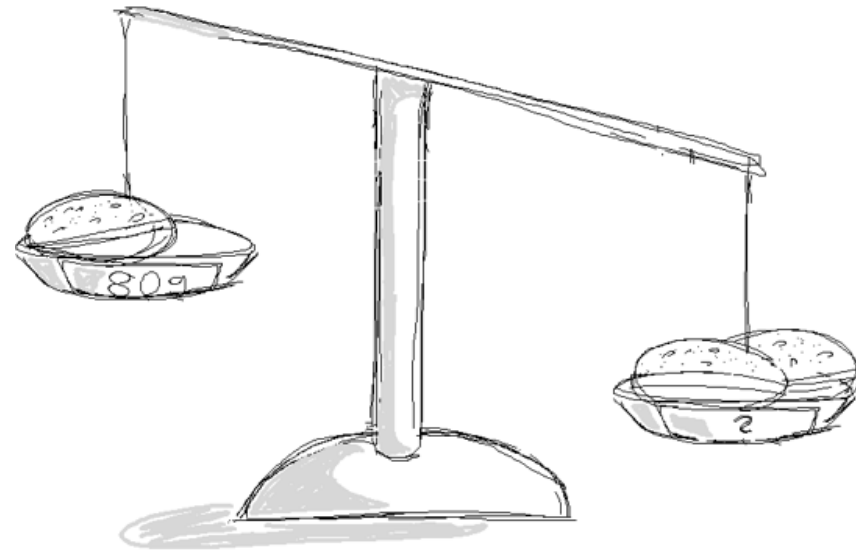


Ein Bauer produziert im Jahr 1t Äpfel. Er verkauft 876kg.  
Wie viele **dag** bleiben übrig?

Beispiel 13

# Beispiel 14

1 Krapfen wiegt 80 g. Wie viel wiegen 2 Krapfen umgewandelt in dg?



Eine Frau kauft im Geschäft 2kg Bananen, 0,342kg und 5kg Fleisch.  
Wie viel kg sind das insgesamt?

Beispiel 15




# Beispiel 16

---

Bylur, Moinn und Petterson stehen auf der Pferdeweide. (Bylur, Moinn und Petterson sind Pferde)


Bylur wiegt 450 kg, Moinn wiegt 434 kg und Petterson wiegt 412 kg.

Wie viele Tonnen wiegen sie insgesamt?



# Beispiel 17

Peter



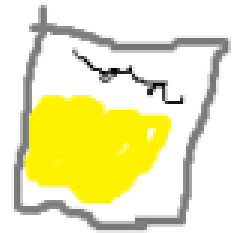
Apfel  
2 kg



Wurst  
10 dag



Käse  
20 dag



Kartoffeln  
4 kg



Peter kauft im Geschäft 10 dag Wurst, 20 dag Käse, 2 kg Äpfel und 4 kg Kartoffeln.

Wieviel wiegt das insgesamt?

# Beispiel 18



**1kg Kantwurst**



**25 dag Kantwurst**

1kg Kantwurst kostet € 13,90.

Hannah kauft 25 dag.

Wie viel muss sie dafür bezahlen?

# Beispiel 19

---

Ein LKW transportiert 10 Paletten Dachziegel.  
Auf einer Palette befinden sich 180 Stück.  
Einer hat ein Gewicht von 3,25kg.  
Eine Holzpalette, wo die Dachziegel  
transportiert werden, ist 12kg schwer.  
Wieviel kg hat die gesamte Ladung?

